

Eggscapespel

Paashaas Pleun zijn gekleurde eieren zijn zoek!

Niveau: gemiddeld

Op een ochtend ontdekt paashaas Pleun dat zijn kostbare gekleurde paaseieren verdwenen zijn. Angstig doorzoekt hij zijn hele hazenhol en de tuin, maar nergens zijn de gekleurde eieren te bespeuren...


De gekleurde paaseieren zijn een beloning die Pleun krijgt na elke goede paaseierenjacht. Die zijn van grote waarde. Hij moet ze terug hebben!

Helaas heeft Pleun geen tijd om te gaan zoeken. Hij moet nog heel wat chocolade eieren maken voor de paaseierenjacht van dit jaar. Help jij hem zoeken naar zijn gekleurde paaseieren? Pleun voorziet voor elke goede zoeker een paaseitje!

Kan jij Paashaas Pleun helpen?

Start de zoektocht!

- 1) Ontrafel de locaties om de gekleurde eieren terug te vinden
- 2) Kraak de code door de raadsels op te lossen
- 3) Combineer de kleuren van de eieren met de gevonden cijfers om de code te kraken. Het kistje vind je op de laatste locatie



Zit je even vast of wens je een tip?
huisvanhetkind@maldegem.be



Huis van het Kind Maldegem

Mevr. Courtmanslaan 92,
9990 Maldegem
050 40 39 26
huisvanhetkind@maldegem.be

Volg ons op:




[Huisvanhetkindmaldegem](https://www.facebook.com/Huisvanhetkindmaldegem)



HUIS VAN HET KIND
—MALDEGEM—

Locatie 1



Cijfer 1



m=st

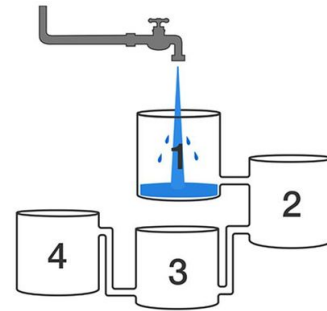


-e




-ge

Welke beker loopt het snelste vol?



Locatie 2



Horizontaal

- 3. Het ontbijt op de dag van Pasen
- 5. Hier leg je de paaseieren in tijdens de zoektocht
- 7. Dit doet de Paashaas met de eieren
- 9. In deze maand valt Paasmaandag dit jaar

Verticaal

- 1. Hiervan zijn de eieren gemaakt
- 2. Dit dier verstopt de paaseieren
- 4. De Paashaas van het verhaal
- 6. Dit eet de Paashaas
- 8. Dit legt een kip

1	2	3	4	5	6	7	8	9
---	---	---	---	---	---	---	---	---


Cijfer 2

Welk cijfer staat aan de andere kant van 6?




Cijfer 3

Welk cijfer moet op het vraagteken staan?



Locatie 3





Cijfer 4


Welk cijfer moet op het vraagteken staan?

$$\begin{array}{r}
 5 + 2 + 3 = 10 \\
 + \quad + \quad + \\
 1 + 5 + 8 = 14 \\
 + \quad + \quad + \\
 6 + ? + 5 = 15 \\
 = \quad = \quad = \\
 12 \quad 11 \quad 16
 \end{array}$$

Locatie 4



Locatie 5



Cijfer 5



86 | 8 | 100 | 89 | 2 | 34 | 3

Ik ben niet het dubbel van 50

Ik ben niet het getal tussen 2 en 4


Ik ben niet de helft van 68

Ik ben niet de som van 40 en 46

Ik ben niet het verschil van 20 en 12

Ik ben niet de som van het eerste en laatste getal

Locatie 6



Cijfer 6


Mastermind: wat is de juiste code?

- U M R K 3 juist maar verkeerde plaats
- M U S R 1 juist en 1 verkeerde plaats
- M P K R 2 juist maar verkeerde plaats
- M U A K 1 juist plaats en 3 verkeerde plaats
- M U K A 2 juiste plaats en 2 verkeerde plaats
-

Hoeveel keer 0 tel jij tussen de Q's?


QQQQQQQQQQQQQQQQQQQQQQQQQQ
QQQQQQQQQQQQQQQQQQQQQQQQQQ
QQQQQQQQQQQQQQQQQQQQQQQQQQ
QQQQQQQQQQQQQQQQQQQQQQQQQQ
QQQQQQQQQQQQQQQQQQQQQQQQQQ
QQQQQQQQQQQQQQQQQQQQQQQQQQ
QQQQQQQQQQQQQQQQQQQQQQQQQQ
QQQQQQQQQQQQQQQQQQQQQQQQQQ
QQQQQQQQQQQQQQQQQQQQQQQQQQ
QQQQQQQQQQQQQQQQQQQQQQQQQQ
QQQQQQQQQQQQQQQQQQQQQQQQQQ
QQQQQQQQQQQQQQQQQQQQQQQQQQ
QQQQQQQQQQQQQQQQQQQQQQQQQQ
QQQQQQQQQQQQQQQQQQQQQQQQQQ

Locatie 7




Kraak de code

Vul de waarde in van elk ei



... ..

Kraak de code



... ..